

Міністерство охорони здоров'я України
Вінницький національний медичний університет ім. М.І.Пирогова
Кафедра медицини катастроф та військової медицини

ПРАКТИКУМ

З ДИСЦИПЛІНИ «ПЕРВИННА
ВІЙСЬКОВО-ПРОФЕСІЙНА ПІДГОТОВКА»



Вінниця - 2023

друкарня-видавництво
ТВОРИ
творимо разом

ISBN 978-617-552-462-4



9 786175 524824

www.tvoru.com.ua

Міністерство охорони здоров'я України
Вінницький національний медичний університет ім. М.І. Пирогова
Кафедра медицини катастроф та військової медицини

ПРАКТИКУМ

з дисципліни «Первинна військово-професійна підготовка»

студента _____

_____ навчального взводу

Вінниця
ТВОРИ
2023

УДК 355.5(076)

П 69

Авторський колектив: кандидат медичних наук, доцент, полковник медичної служби у відставці Матвійчук М. В.; кандидат медичних наук, доцент, підполковник медичної служби Подолян В. М.; підполковник запасу Івашкевич Є. М., кандидат медичних наук, доцент, капітан медичної служби запасу Чорна В. В., кандидат медичних наук, підполковник медичної служби Губар А. М., підполковник медичної служби у відставці Івашкевич М. С.

Рецензенти:

начальник кафедри організації медичного забезпечення збройних сил Української військово-медичної академії, доктор медичних наук, професор, полковник медичної служби Бадюк Михайло Іванович

декан медичного факультету Вінницького національного медичного університету ім. М.І. Пирогова, доктор медичних наук, професор Шевчук Юрій Григорович

начальник Військово-медичного клінічного центру Центрального регіону, кандидат медичних наук, доцент, полковник медичної служби Пашковський Сергій Миколайович

Практикум з дисципліни «Первинна військово-професійна підготовка»: Практик. для сам. роб студ. мед. та фарм. факульт. ВНМУ ім. М.І. Пирогова / Під редакцією доцента Матвійчука М.В. Вінниця: ТОВ «ТВОРИ», 2023. 116 с.

ISBN 978-617-552-482-4

У практикумі наведено питання контролю основних положень з первинної військово-професійної підготовки. Практикум відповідає курсу первинна військово-професійна підготовка за програмою підготовки офіцерів запасу медичної служби, затверджений Військово-медичним департаментом Міністерства оборони України у 2017 році та призначений для громадян України, які проходять навчання за програмою військової підготовки з військово-обліковими спеціальностями 901010 “Лікувальна справа в наземних військах, авіації та на кораблях (помічник лікаря)” та 909000 “Фармація”.

Практикум призначений для самостійної роботи.

Розглянуто та схвалено на засіданні Вченої ради
Вінницького національного медичного університету ім. М.І. Пирогова
(протокол від 26.10.2023 р. № 4)

ЗМІСТ

Порядок використання практикуму студентами для самостійної підготовки (опрацювання) тем навчальної дисципліни «Первинна військово-професійна підготовка».....	5
---	---

РОЗДІЛ 1. ТАКТИЧНА ПІДГОТОВКА

1. Заходи безпеки при проведенні занять з бойової підготовки.....	6
2. Озброєння та бойова техніка військової частини.....	9
3. Дії солдата в бою.....	15
4. Виконання завдань військовослужбовцями у стабілізаційних, специфічних діях військ та у спеціальній операції. Бойовий досвід АТО.	21

РОЗДІЛ 2. РОЗВІДУВАЛЬНА ПІДГОТОВКА

1. Дії спостережного поста при веденні розвідки.....	29
2. Дії солдата в дозорі.....	33

РОЗДІЛ 3. ІНЖЕНЕРНА ПІДГОТОВКА

1. Інженерне обладнання та маскування позицій.....	38
2. Інженерні загородження, їх улаштування та подолання.....	41

РОЗДІЛ 4. ВІЙСЬКОВА ТОПОГРАФІЯ

1. Орієнтування на місцевості без карти.....	47
--	----

РОЗДІЛ 5. ПІДГОТОВКА ЗІ ЗВ'ЯЗКУ

1. Штатні засоби зв'язку підрозділів.....	53
---	----

РОЗДІЛ 6. РАДІАЦІЙНИЙ, ХІМІЧНИЙ, БІОЛОГІЧНИЙ ЗАХИСТ

1. Засоби індивідуального захисту та користування ними.....	58
---	----

РОЗДІЛ 7. ТАКТИЧНА МЕДИЦИНА

1. Види ушкоджень в бойових умовах. Засоби індивідуального медичного оснащення. Поняття домедичної допомоги. Проведення медичного огляду пораненого в бойових (секторі укриття та евакуації) та небойових умовах.....	66
2. Зупинка кровотечі та захист рани в бойових (секторі обстрілу, укриття та евакуації) та небойових умовах.....	73
3. Надання домедичної допомоги при гострих порушеннях дихання в бойових та небойових умовах.....	77

4. Надання домедичної допомоги при переломах, вивихах, розтягах в бойових (секторі укриття та евакуації) та небойових умовах. Пошкодження м'яких тканин кінцівок. Профілактика ранової інфекції.... 82
5. Відтягнення та переміщення пораненого в укриття та його евакуація в бойових (секторі обстрілу, укриття та евакуації) та небойових умовах..... 88
6. Надання домедичної допомоги при ураженні зброєю масового ураження.. 93
7. Надання домедичної допомоги при опіках, відмороженнях та замерзанні..... 96

РОЗДІЛ 8. ВОГНЕВА ПІДГОТОВКА

1. Матеріальна частина стрілецької зброї, ручних осколкових гранат..... 100
2. Основи та правила стрільби..... 108
3. Дії при зброї..... 112

Порядок використання практикуму студентами для самостійної роботи (опрацювання) тем дисципліни «Первинна військово-професійна підготовка»

Практикум з дисципліни «Первинна військово-професійна підготовка», розроблено у відповідності до План-програми курсу первинної військово-професійної підготовки за програмою підготовки офіцерів запасу медичної служби затверджений Військово-медичним департаментом Міністерства оборони України у 2017 році та призначений для громадян України, які мають або здобувають ступінь вищої освіти не нижче бакалавра зі спеціальностей: 222 “Медицина”, 228 “Педіатрія”, 225 “Медична психологія”, 226 «Фармація», 226 «Фармація, промислова фармація», що проходять навчання за програмою військової підготовки з військово-обліковою спеціальністю 901010 “Лікувальна справа в наземних військах, авіації та на кораблях (помічник лікаря)” та 909000 “Фармація”.

При використанні практикуму для підготовки до самостійної роботи дотримується чітка послідовність вивчення тем курсу.

Кожна тема практикуму складається з двох складових завдань:

I. Вивчити певний обсяг навчального матеріалу теоретичної частини теми.

II. Виконати запропоновані завдання із обов’язковим записом результатів виконаного завдання у спеціально відведені форми.

Звітність виконання практикуму проводиться по завершенню вивчення дисципліни. Критерій оцінювання практикуму за дисципліну: самостійна робота зарахована, якщо теоретичні та практичні завдання практикуму по всім темам виконані.

РОЗДІЛ 1. ТАКТИЧНА ПІДГОТОВКА.

Тема. Заходи безпеки при проведенні занять з бойової підготовки.

I. ВИВЧИТИ:

1. Виконання заходів безпеки військовослужбовцями під час виконання бойових, навчально-бойових завдань та повсякденної діяльності.
2. Заходи безпеки під час поводження зі стрілецькою зброєю, бойовими гранатами, боеприпасами, мінами, вибуховими речовинами, освітлювальними та імітаційними засобами.
3. Заходи безпеки під час поводження з отруйними речовинами і хімічними рідинами, а також із медичними препаратами і наркотичними засобами.
4. Відповідальність і обов'язки посадових осіб та особового складу щодо дотримання заходів безпеки.

Література:

1. Заходи безпеки у Збройних Силах України: навчальний посібник / О. Водчиць, І. Скворок, Г. Чугуй та ін., К.: НАУ, 2021, 267 с. (С.13-19, 43-57, 114-163).
2. Повсякденна діяльність командира підрозділу: навч. посіб. / В. М. Петренко, М. М. Ляпа, В. Є. Житник та ін. С.: СДУ, 2014. 450 с. (С.347-367).



II. ВИКОНАТИ:

1. Дайте визначення поняттю “безпека”:

2. Вкажіть, що розуміється під безпекою військової діяльності:

у мирний час - _____

у воєнний час - _____

3. Вкажіть види інструктажів, які проводиться з особовим складом:

1. _____
2. _____
3. _____
4. _____
5. _____

4. Вкажіть обов'язки командира підрозділу щодо дотримання особовим складом заходів безпеки:

1. _____
 2. _____
 3. _____
 4. _____
 5. _____
 6. _____
 7. _____
-

5. Вкажіть в яких випадках забороняється вести вогонь під час виконання вправ стрільб:

1. _____

2. _____

3. _____

4. _____

6. Вкажіть у яких випадках негайно припиняється ведення вогню зі стрілецької зброї під час виконання вправ стрільб:

1. _____

2. _____

3. _____

4. _____

5. _____

6. _____

7. _____

8. _____

Тема. Озброєння та бойова техніка військової частини.

I. ВИВЧИТИ:

1. Призначення і тактико-технічні характеристики стрілецької зброї механізованих (танкових) підрозділів.
2. Призначення і тактико-технічні характеристики бронетанкової і артилерійської техніки механізованих (танкових) підрозділів.
3. Призначення і тактико-технічні характеристики автомобільної техніки медичних підрозділів.

Література:

1. Керівництво зі стрілецької справи. 5,45-мм автомати Калашнікова (АК-74, АКС-74, АК-74Н, АКС-74Н) та 5,45-мм ручні кулемети Калашнікова (РПК-74, РПКС-74, РПК-74Н, РПКС-74Н), ВКДП 7-00(01).01 К.: ГУ БП КСВ ЗС України, 2019, 140 с. (С.8-12, 25-44).
2. Настанова зі стрілецької справи 9 - мм пістолет Макарова (ПМ), К.: ГУ БП КСВ ЗС України, 2004, 64 с. (С. 3-6, 20-32).



II. ВИКОНАТИ:

1. Вкажіть різновиди автомата Калашнікова, що зображені на малюнках:



2. Вкажіть різновиди кулемета Калашнікова, що зображені на малюнках:



3. Вкажіть бойові властивості автомат АК-74 та кулемету РПК-74:

Характеристика	АК-74	РПК-74
1. Калібр (мм)		
2. Прицільна дальність стрільби (м)		
3. Дальність прямого пострілу - по цілі (м) - по рухомій цілі (м)		
4. Темп стрільби (технічна скорострільність) (постр/хв)		
5. Бойова скорострільність (постр/хв) - чергами - одиночними		
6. Вага із зарядженим магазином (кг)		
7. Убивча дальність кулі (м)		

4. Вкажіть бойові властивості пістолета Макарова ПМ:

Характеристика	ПМ
1. Калібр ствола, (мм)	
2. Ємкість магазина, (шт)	
3. Висота пістолета, (мм)	
4. Довжина пістолета, (мм)	
5. Кількість нарізів ствола, шт.	
6. Бойова швидкострільність пістолета (постр/хв)	
7. Початкова швидкість польоту кулі, (м/с)	
8. Вага пістолета разом із зарядженим магазином (гр)	



5. Вкажіть назви броньованої техніки, що є на озброєнні в підрозділах Збройних Сил України:



--	--



--	--



--	--

6. Вкажіть назви важкого стрілецького та артилерійського озброєння:



--	--



--	--



--	--

7. Вкажіть назви транспортних (авіаційних) засобів призначених для медичної евакуації поранених (хворих):





--	--

8. Вкажіть евакуаційність транспортних (авіаційних) засобів, що використовуються для евакуації поранених і хворих:

Назва транспорту	Вміст (поранених і хворих)				
	тільки лежачи	комбінований спосіб			тільки сидячи
		лежачи	сидячи	разом	
Транспортер малогабаритний легко броньований "МТ-ЛБ"-С					
Бронетранспортер БТР-4С					
Автомобіль санітарний					
Богдан 2251					
Літак аеромедичної евакуації "Віта"					
Вертоліт Мі-8					

Тема. Дії солдата в бою.

I. ВИВЧИТИ:

1. Сигнали управління та оповіщення, визначені Стройовим статутом Збройних Сил України.
2. Міжнародне гуманітарне право.
3. Дії солдата в оборонному та наступальному бою в особливих умовах.

Література:

1. Закон України «Про Стройовий статут Збройних Сил України» №549- XIV від 24.03.1990. Додаток 1, Додаток 2.
2. Бойовий статут механізованих і танкових військ Сухопутних військ Збройних Сил України. Ч. III. Взвод, відділення, екіпаж., К.: КСВ ЗСУ 2016. 144 с. (С. 41-50, 74-86).



II. ВИКОНАТИ:

1. Заповніть таблицю сигналів управління строєм:

Назва сигналу	Передача сигналу рукою	Передача сигналу прапорцем	Передача сигналу ліхтарем
Увага (увага, роби те саме, що я; відклик)			
До машин			
Руш (уперед, рухатися далі в попередньому або новому напрямку, шлях вільний)			
Стій (стоп)			

2. Вкажіть на малюнках сигнали, які застосовуються для управління машиною:



--	--	--



--	--	--

3. Вкажіть на малюнках сигнали, що подаються жестами у бойовій обстановці:

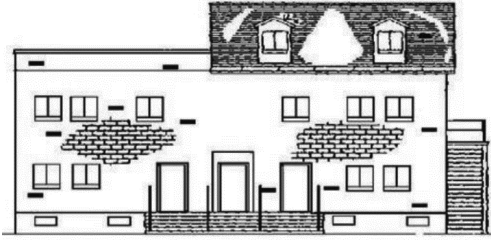


--	--	--



--	--	--

4. Позначте на малюнках місця обладнання вогневої позиції для:



Стрелець




Гранатометник



Кулеметник



Снайпер



5. Вкажіть, яка кількість особового складу відділення знаходиться в нічній час на бойовій позиції:

1/3	1/2	2/3	100%

6. Вкажіть де обладнуються вогневі позиції під час оборонного бою в лісі:

7. Позначте вірні твердження:

Під час оборонного бою в гірській місцевості, вогневі позиції обладнуються:

<input type="checkbox"/>	на бойовому гребні
--------------------------	--------------------

<input type="checkbox"/>	на топографічному гребні
--------------------------	--------------------------


<input type="checkbox"/>	на зворотних схилах висот
--------------------------	---------------------------

<input type="checkbox"/>	на пануючих висотах
--------------------------	---------------------

<input type="checkbox"/>	на перевалах
--------------------------	--------------

<input type="checkbox"/>	у підніжжя гір (висот)
--------------------------	------------------------

8. Позначте на малюнках найбільш вразливі частини броньованої техніки:



9. Підпишіть малюнки у відповідності до способів пересування солдата на полі бою:



--	--	--



--

--

10. Позначте правильне твердження.

Механізоване відділення при захопленні будівлі зазвичай:

<input type="checkbox"/>	діють індивідуально
--------------------------	---------------------

<input type="checkbox"/>	діє в повному складі
--------------------------	----------------------

<input type="checkbox"/>	розділяється на бойові групи
--------------------------	------------------------------

<input type="checkbox"/>	очікує підкріплення
--------------------------	---------------------

11. Вкажіть призначення підгруп, які входять до бойового порядку штурмової групи:

Підгрупа захоплення _____

Підгрупа управління і вогневої підтримки _____

Підгрупа розгородження _____

Підгрупа прикриття та закріплення _____

12. Вкажіть допустиму глибину броду під час долаття водної перешкоди:

у пішому порядку _____ метрів

для танків _____ метрів

для автомобілів _____ метрів

Тема. Виконання завдань військовослужбовцями у стабілізаційних, специфічних діях військ та у спеціальній операції. Бойовий досвід АТО.

I. ВИВЧИТИ:

1. Обов'язки особового складу блокпосту.
2. Обов'язки солдата під час підготовки до маршу та під час його здійснення.
3. Особливості розташуванні на місці в особливих умовах.
4. Вивчення особливостей дій особового складу Збройних Сил України під час АТО/ООС.
5. Особливості застосування положень міжнародного гуманітарного права і прав людини в збройних конфліктах.

Література:

1. Дії на блокпосту (контрольно-перепускному пункті)” (за досвідом проведення ООС/АТО: методичні рекомендації. К.: ЦОС і МП ЗСУ, ГУ ПЗСУ. 2019. 76 с. (С.7-30).
2. Бойовий статут механізованих і танкових військ СВ ЗСУ, Ч.ІІІ (взвод, відділення, екіпаж). К.: КСВ ЗС України. 2016, 144 с. (С. 105-111, 116-118).
3. Ситуаційні завдання та варіанти дій за ними для підрозділів родів військ та спеціальних військ” (за досвідом проведення ООС / АТО): методичні рекомендації. К.: ЦОСіМП ЗСУ, ГУ ПЗСУ, 2019. 84 с. (С. 9-50).
4. Наказ МОУ № 164 від 23.03.2017 “Про затвердження Інструкції про порядок виконання норм міжнародного гуманітарного права у Збройних Силах України”.



II. ВИКОНАТИ:

1. Дайте визначення поняттю “блокпост”:

2. Вкажіть, які основні завдання виконує підрозділ на блокпосту:

1. _____

2. _____

3. _____

3. Вкажіть, що має право особовий склад блокпосту:

1. _____

2. _____

3. _____

4. _____

4. Вкажіть, що забороняється особовому складу блокпосту:

1. _____

2. _____

3. _____

4. _____

5. _____

6. _____


7. _____

8. _____

9. _____

10. _____

5. Пронумеруйте на малюнку послідовність огляду людини на блок посту:



6. Дайте визначення поняттю:

Марш - _____

Розташування на місці - _____

7. Вкажіть основні показники маршу:

Середня швидкість руху:

на БМП _____ км/год

на БТР _____ км/год

у пішому порядку _____ км/год

на лижах _____ км/год

Протяжність добового переходу:

для змішаних і танкових колон _____ КМ
автомобільних колон _____ КМ
в несприятливих умовах _____ КМ

Тривалість переходу:

час руху на добу _____ ГОД
привали призначаються _____ ГОД. руху
тривалість привалу _____ ГОД

8. Вкажіть, що забороняється особовому складу при розташуванні на місці:

9. Вкажіть, що включає в себе тактика «проштовхування» у випадку перекриття (блокування) доріг (маршрутів руху) цивільним населенням (сепаратистами):

9. Вкажіть дії особового складу при потраплянні колони в засідку (напад на колону) у випадку коли підбита перша бойова машина та одна з машин колони:

10. Вкажіть дії особового складу при здійсненні вогневого нападу на базовий табір:

11. Вкажіть дії особового складу під час обстрілу РСЗВ БМ-21 “ГРАД”:

9. Дайте визначення основним термінам і поняттям міжнародного гуманітарного права (МГП):

1. Анексія - _____

2. Військовий об'єкт - _____

3. Демілітаризована зона - _____

4. Комбатанти - _____

5. Медичний персонал - _____

6. Медичні формування - _____

7. Некомбатанти - _____

8. Парламентери - _____

9. Поранені та хворі - _____

10. Найманці - _____

11. Воєнна окупація - _____

5. Вкажіть, що розуміється під медичними (санітарними) перевезеннями:

6. Заповніть таблицю «Рекомендовані розміри розпізнавальних емблем (знаків)», що призначені для розпізнавання медичного і духовного персоналу, медичних формувань та санітарно-транспортних засобів:

Об'єкти розпізнавання та захисту	Розміри (см)		
	щита (полотнища)	емблеми (знака, літери)	ширина лінії емблеми (знака, літери)
Райони розташування медичних частин (підрозділів), місцевості (райони), які знаходяться під захистом МГП			
Окремі об'єкти, які знаходяться під захистом МГП			
Прапор для позначення медичних формувань			
Транспортні засоби у верхній напівсфері; у бокових, задній та передній напівсфері			
Особовий склад: накидки; головний убір			

РОЗДІЛ 2. РОЗВІДУВАЛЬНА ПІДГОТОВКА.

Тема. Дії спостережного поста при веденні розвідки.

I. ВИВЧИТИ:

1. Розвідувальні ознаки розташування противника на місцевості.

Література:

1. Розвідувальна підготовка: довідковий матеріал з тактичної підготовки, К.: ЦОСіМП ЗСУ, ДМ до СТІ 000Г.08Л, 2019, 24 с. (С. 5-22).
2. Сучасне озброєння і військова техніка ЗС РФ. Довідник учасника ООС / С. П. Корнійчук, О. В. Турінський, Г. В. Певцов, та ін.; за заг. ред. С. П. Корнійчука, Х.: ДІСА ПЛЮС, 2020. 1220 с. (С. 38-119, 438-630).

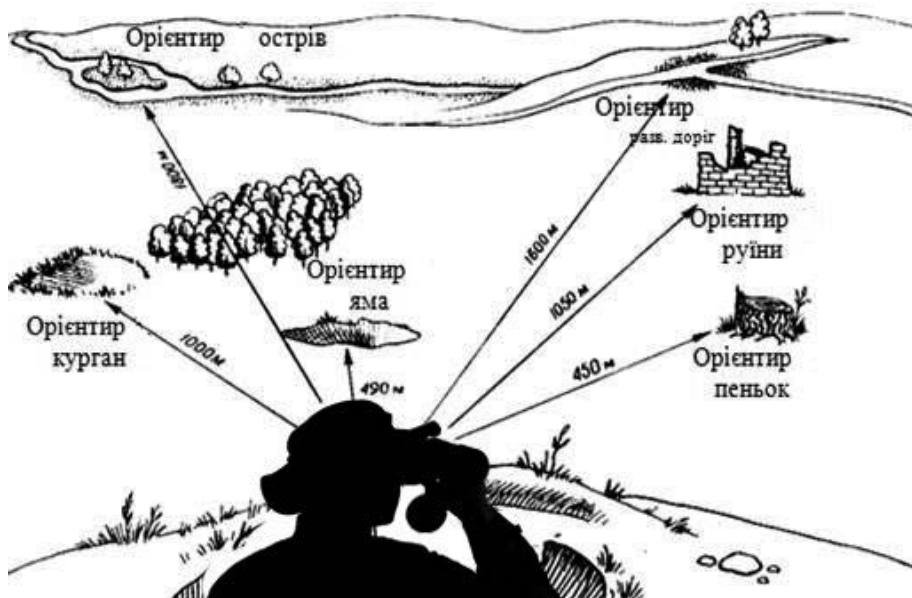


II. ВИКОНАТИ:

1. Вкажіть де на малюнках спостерігач розміщений вірно (+), а де невірно (-):



2. Пронумеруйте орієнтири використовуючи правила складання схеми орієнтирів:



3. Заповніть Журнал спостереження за результатами проведеного спостереження та надайте доповідь старшому спостерігачу (командиру) про виявлення цілі:

Час спостереження	Де і що виявлено	Кому і коли доведено
25.11.2022		
09.15 25.11.22	Ор.4, вліво 10, ближче 200, з окопу біля куща вистрілив гранатомет	капітану Мельнику в 09.17
13.10 25.11.22	Ор.6, вправо 1-15, 2400 м, установка трьох мінометів в окопи	капітану Мельнику в 13.12
26.11.2022		

Доповідь командиру: _____

4. Вкажіть розвідувальні ознаки розташування противника на місцевості:

Інженерного обладнання і вогневих засобів _____

Стрільба артилерії та мінометів _____


Танки, самохідна артилерія _____

Командно-спостережних і командних пунктів _____

Застосування хімічних речовин і біологічних засобів _____

Підготовка противника до наступу (відходу) _____

5. Вкажіть державу, якій належить військовий літак відповідно до розпізнавальних знаків:











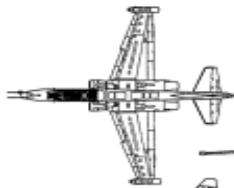
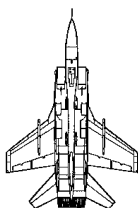


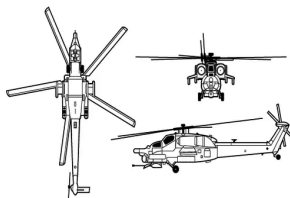
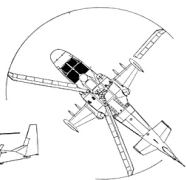






6. Визначте за силуетом назву (тип) літального апарату:





Тема. Дії солдата в дозорі.

I. ВИВЧИТИ:

1. Організація, озброєння та тактика дій підрозділів армій провідних держав світу.

Література:

1. Загальна тактика. Ч. 1: навч. посіб. / С. Т. Полтораки, М. Д. Ткаченко, О. В. Лисенко та ін. Х. : ХУПС, 2015. 342 с. (С. 36-96).
2. Сучасне озброєння і військова техніка ЗС РФ. Довідник учасника ООС / С. П. Корнійчук, О. В. Турінський, Г. В. Певцов, та ін.; за заг. ред. С. П. Корнійчука, Х.: ДІСА ПЛЮС, 2020. 1220 с. (С. 38-119, 438-630).



II. ВИКОНАТИ:

1. Вкажіть числові показники тактики дії мотопіхотних і танкових підрозділів армії США та Німеччини в основних видах бою:

Мотопіхотний (танковий) батальйони:

армії США наступає на фронті _____ км

армії Німеччини наступає на фронті _____ км

В обороні мотопіхотна й танкова роти готують і обороняють опорний пункт:

по фронту _____ м

у глибину _____ м

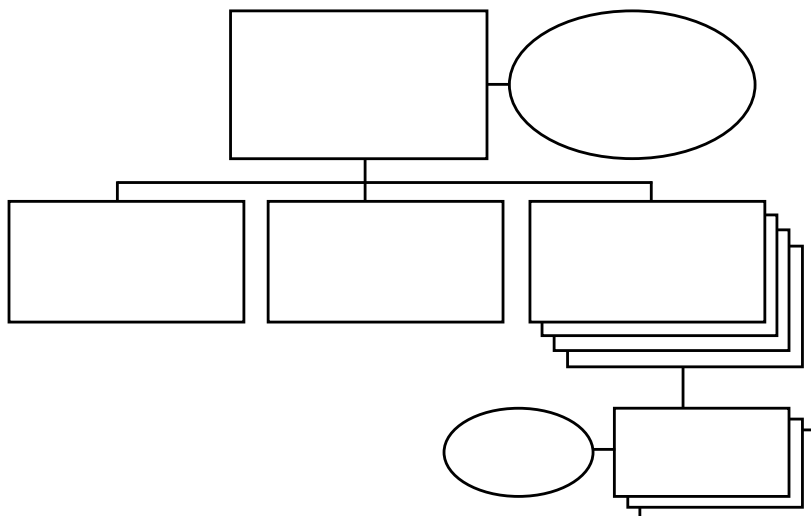
В обороні мотопіхотний взвод на БМП “Мардер” А1 займає опорний пункт:

по фронту до _____ м

у глибину до _____ м

фронт оборони відділення _____ м

2. Заповніть організаційну структуру та озброєння мотопіхотного батальйону армії США:



Особового складу	_____	осіб
БМП М2 “Брэдлі”	_____	одиниць
БРМ М3 “Брэдлі”	_____	одиниць
Самохідних мінометів М106 А1	_____	одиниць
ПТРК “ТОУ” М901	_____	одиниць
БТР М113 А1	_____	одиниць
КШМ М577 А1	_____	одиниць
ПУ ПТКР “Дракон”	_____	одиниць
7,62мм кулеметів М60	_____	одиниць
12,7мм кулеметів М2НВ	_____	одиниць
Автомобільна техніка	_____	одиниць
Радіостанції	_____	одиниць

3. Вкажіть назви зразків озброєння армій США та ФРН:



4. Заповніть схему організації мотострілецького взводу збройних сил рф:

1. 2. 3. 4. 5.	1. 2. 3. 4. 5.	1. 2. 3. 4. 5.
1. 2. 3. 4. 5. 6. 7. 8. 9.	1. 2. 3. 4. 5. 6. 7. 8. 9.	1. 2. 3. 4. 5. 6. 7. 8. 9.

5. Вкажіть числові показники тактики дії мотострілецьких підрозділів ЗС рф в основних видах бою:

Взвод обороняє опорний пункт _____ метрів по фронту

_____ метрів у глибину

Відділення обороняє позицію _____ метрів по фронту

Механізований взвод наступає на фронті до _____ метрів

Механізований відділення в пішому порядку _____ метрів

РОЗДІЛ 3. ІНЖЕНЕРНА ПІДГОТОВКА.

Тема. Інженерне обладнання та маскуванню позицій.

I. ВИВЧИТИ:

1. Польові фортифікаційні споруди.

Література:

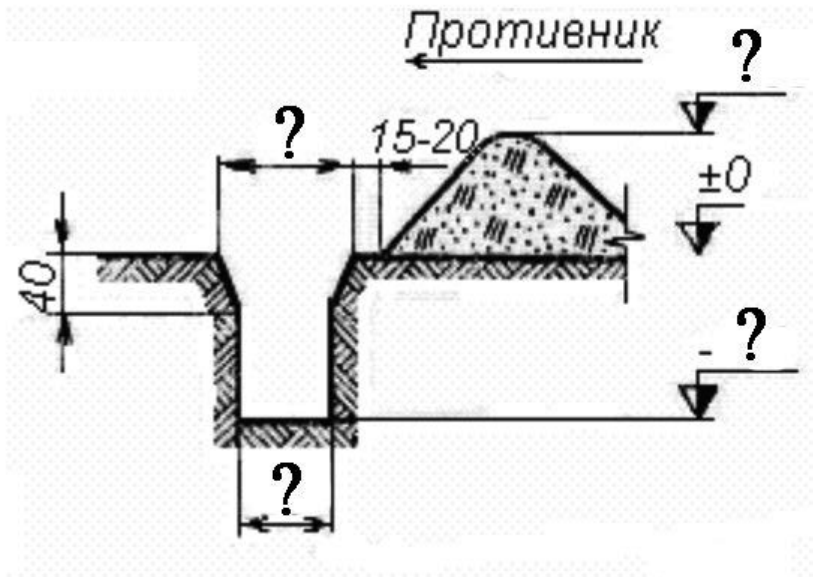
1. Бойовий статут механізованих і танкових військ Сухопутних військ Збройних Сил України. Ч. III. Взвод, відділення, екіпаж., Додаток 11, К.: КСВ ЗСУ 2016. 302 с. (С. 287-298).

2. Інженерна підготовка, довідковий матеріал з інженерної підготовки, К: ЦОСiМП ЗСУ, ДМ до СТІ 000Г.16Л, 2019. 34 с. (С. 5-7).



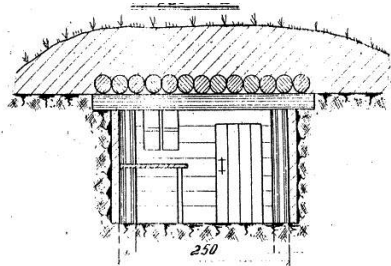
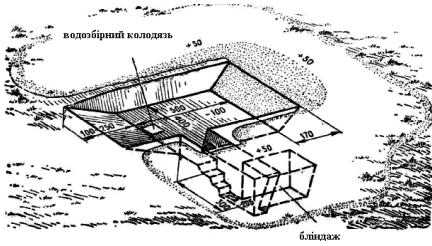
II. ВИКОНАТИ:

1. Вкажіть основні числові показники на зображенні профілю траншеї (ходу сполучення):

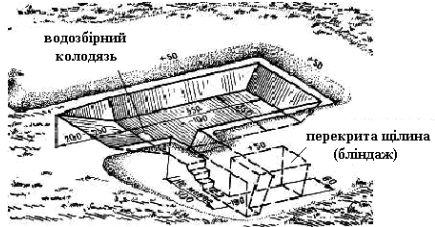
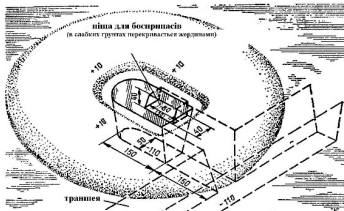


2. Позначте на малюнках:

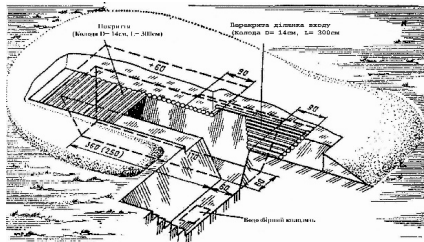
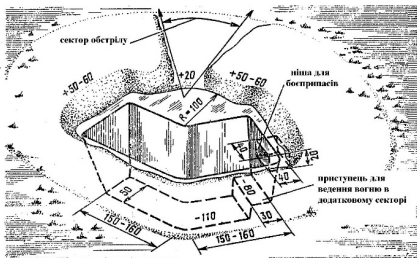
- а – окоп для стрільби з кулемета стоячи;
- б – окоп для ручного протитанкового гранатомета;
- в – окоп для бойової машини піхоти;
- г – окоп для танка;
- д – перекрита щілина;
- е – бліндаж.



--	--



--	--



--	--

3. Позначте на малюнках типове деформуюче фарбування зразків озброєння та військової техніки:

а – Збройних Сил України;

б – збройних сил росії.





--

--



--

--



--

--

Тема. Інженерні загородження, їх улаштування та подолання.

I. ВИВЧИТИ:

1. Тактико-технічна характеристика протитанкових і протипіхотних мін армій провідних держав світу, особливості будови та установки.
2. Заходи безпеки при виконанні завдань в районах, що становлять мінну небезпеку.

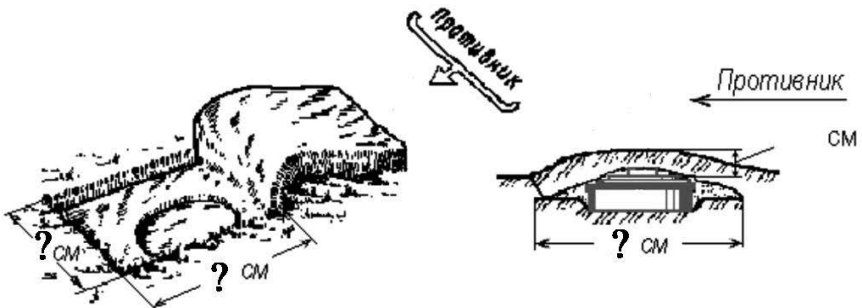
Література:

1. Інженерна підготовка, довідковий матеріал з інженерної підготовки, К.: ЦОСіМП ЗСУ, ДМ до СТІ 000Г.16Л, 2019. 36 с. (С. 8-14, 24-34).
2. Інженерні боеприпаси, які використовувались (можуть використовуватись) збройними силами рф або НЗФ на сході України, методичний посібник, К.: ВП 7-00(01).01, ЦОСіМП ЗСУ, 2020. 128 с. (С. 10-48).
3. Методичний матеріал з інженерної підготовки для навчання військовослужбовців, призваних за мобілізацією, Ж.: ЖВІРЕ, 2015. 38 с. (С. 2-6).



II. ВИКОНАТИ:

1. Вкажіть основні числові показники встановлення протитанкової міни в ґрунт вручну з маскуванням дерном на зображеннях:



2. Впишіть в таблицю основні характеристики протипіхотних мін YM-1 та YM-1B:



YM-1



YM-1B

Характеристика	YM-1	YM-1B
Тип		
Корпус		
Вага (кг)		
Розміри: (висота x діаметр в мм)		
Чутливість (кг)		
Температурний діапазон застосування (°С)		

3. Підпишіть назви протипіхотних вибухових пристроїв (мін):



--	--



--	--

4. Вкажіть технічні характеристики протипіхотних вибухових пристроїв (мін):


Показник	МОН - 50	ПОМЗ-2М	ОЗМ-72
Тип			
Матеріал корпусу			
Маса, кг:			
Характеристика зони суцільного ураження			

5. Вкажіть порядок дій при виявленні вибухонебезпечних предметів під час дії:
в пішому порядку: _____

7. Підпишіть назви протитанкових та протипіхотних мін, які використовуються збройними силами росії та НЗФ:



--	--





--	--




--	--

2. Визначить сторони горизонту за допомогою сонця і годинника (А) та за допомогою місяця і годинника (Б) та нанесіть їх на малюнки:





А



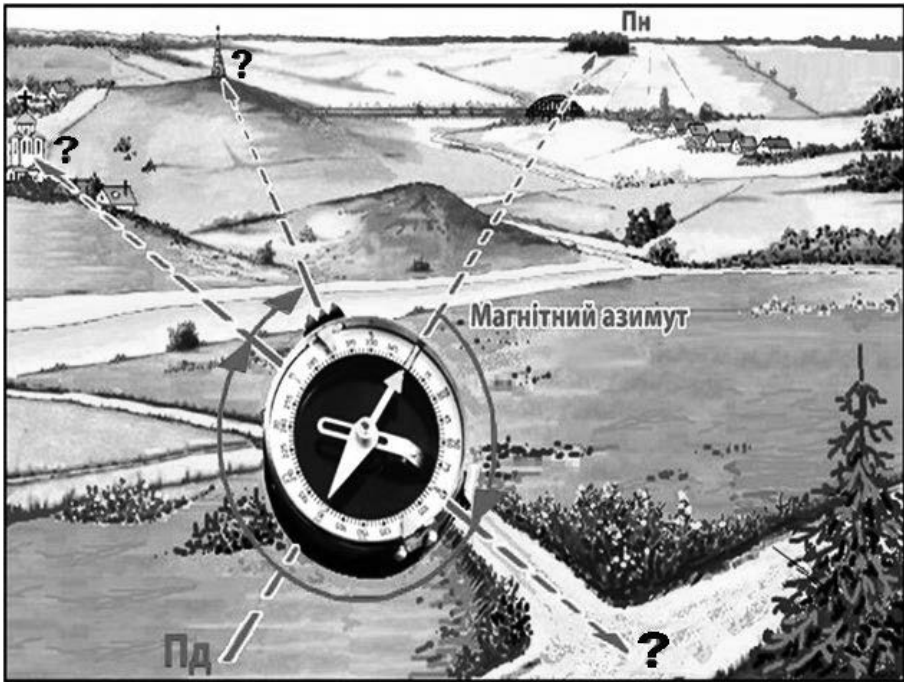
Б

3. Визначить сторони горизонту за ознаками місцевих предметів:





4. Визначте за допомогою компасу магнітні азимути на місцеві предмети, що зображені на малюнку:

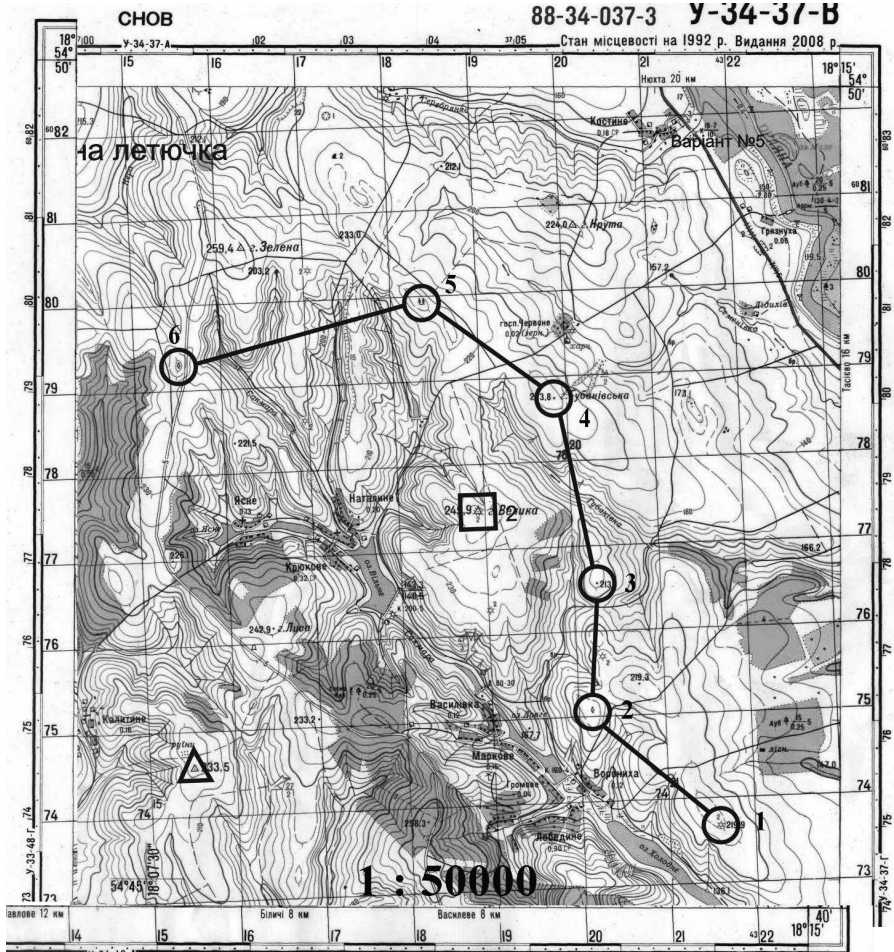


Магнітний азимут напрямку на перехрестя доріг = _____

Магнітний азимут напрямку на церкву = _____



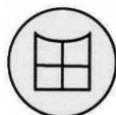

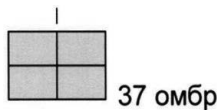

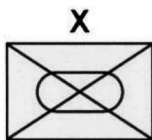

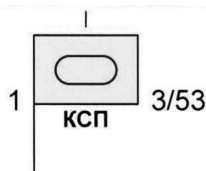
Магнітний азимут напрямку на урочище = _____

5. Підготуйте по карті дані для руху по азимутах та заповніть таблицю:



Ділянки маршруту	Магнітні азимуты (Ам)	Відстань у метрах
Курган (вис. 219,9) – окремо розташоване листяне дерево		
Окремо розташоване листяне дерево – Висота 213		
Висота 213 – г. Губанівська (вис. 213,8)		
г. Губанівська (вис. 213,8) – Група хвойних дерев		
Група хвойних дерев – Окремо розташоване листяне дерево		

6. Підпишіть кожен із наведених умовних тактичних знаків:




7. Нанесіть тактичні умовні знаки відповідно до завдань:

Механізована рота



Рубіж оборони (позиція) зайнятий військами



Бойова машина піхоти



Укриття (бліндаж)



34 військовий мобільний госпіталь, що підпорядкований ВМКЦ ЦР, 200 – кількість ліжок



Командно-спостережний пункт 1 мр 3 мб 26 омбр



РОЗДІЛ 5. ПІДГОТОВКА ЗІ ЗВ'ЯЗКУ.

Тема. Штатні засоби зв'язку підрозділів.

I. ВИВЧИТИ:

1. Підготовка, налаштування, порядок встановлення зв'язку, передача сигналів та команд на радіозасобах зв'язку.
2. Підготовка, підключення, передача сигналів та команд на проводових засобах зв'язку.

Література:

1. Підготовка зі зв'язку, довідковий матеріал, ДМ до СТІ 000Г.14Л, К.: ЦОСІМП ЗСУ, 2019. 28 с. (С. 5-13).
2. Організація військового зв'язку, навчальний посібник / В.Г. Шолудько, М.Ю. Єсаулов, та ін.; К.: ВІТІ, 2017. 282 с. (С. 252-274).



II. ВИКОНАТИ:

1. Підпишіть назви засобів телефонного зв'язку, що є на озброєнні в механізованому батальйоні:



--	--



--	--

2. Вкажіть послідовність розгортання телефонного апарату ТА-57:

1. _____
- _____
2. _____
- _____
3. _____
- _____
- _____
4. _____
- _____

3. Підпишіть способи включення в лінію телефонного апарату ТА-57 за запропонованими варіантами:

- А - кінцевий режим
- В - режим контролю ліній
- С - аварійний режим



Л1 К Л2



Л1 К Л2



Л1 К Л2

--	--	--

4. Підпишіть назви засобів транкінгового радіозв'язку, що є на озброєнні в механізованому батальйоні:



--	--

5. Підпишіть назви переносних радіостанцій УКХ діапазону, що є в механізованому батальйоні:



--	--

6. Вкажіть послідовність підготовки радіостанції Р-159 до роботи:

1. Розгортання радіостанції:

- _____
- _____
- _____
- _____

2. Перевірка працездатності:

- _____
- _____
- _____
- _____
- _____

3. Налагодження на частоту зв'язку:

- _____
- _____

7. Запишіть приклад переговорів для установаження зв'язку в радіонапрямку з використанням індивідуальних позивних:

Ваш позивний – «Рубін 14», позивний підлеглого – «Смарагд 33»

Виклик: _____

Відповідь: _____

Підтвердження: _____

РОЗДІЛ 6. РАДІАЦІЙНИЙ, ХІМІЧНИЙ, БІОЛОГІЧНИЙ ЗАХИСТ.

Тема. Засоби індивідуального захисту та користування ними.

I. ВИВЧИТИ:

1. Призначення і будова засобів індивідуального захисту військовослужбовців.
2. Використання засобів індивідуального захисту у різних умовах обстановки.
3. Вивчення умов виконання нормативів з РХБЗ.

Література:

1. Зброя масового ураження та захист від неї. Навчальний посібник. / Б. П. Теплоухов. К.: Вид. дім «СКІФ», 2023. 101 с. (С. 45-57)
2. Підготовка з радіаційного, хімічного, біологічного захисту, довідковий матеріал, ДМ до СТІ 000Г.15Л, К.: ЦОСiМП ЗСУ, 2019. 67 с. (С. 28-42)



II. ВИКОНАТИ:

1. Заповніть схему класифікації засобів індивідуального захисту:

ЗАСОБИ ІНДИВІДУАЛЬНОГО ЗАХИСТУ

За призначенням

--	--	--

За принципом дії

--	--

2. Вкажіть назви фільтруючих протигазів, що зображені на малюнках:



--	--



--	--

3. Підпишіть складові та комплект фільтруючого протигазу:



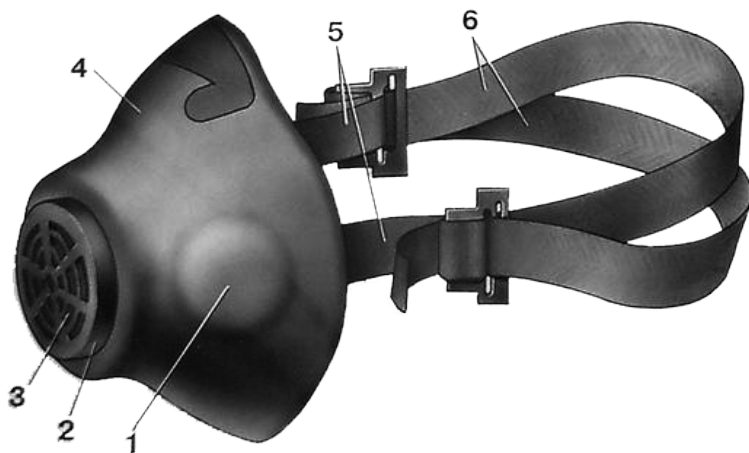
1. _____
2. _____
3. _____
4. _____
5. _____
6. _____
7. _____

4. Підпишіть складові та комплект ізолюючого протигазу:



1. _____
2. _____
3. _____
4. _____
5. _____
6. _____
7. _____

5. Підпишіть складові респіратора Р-2:



- 1. _____
- 2. _____
- 3. _____
- 4. _____
- 5. _____
- 6. _____

6. Вкажіть помилки, які знижують оцінку на один бал при виконанні нормативу «Одягання протигазу або респіратора» (Н-РХБЗ-1):

- 1. _____
- _____
- 2. _____
- _____
- 3. _____
- _____

7. Підпишіть складові загальновійськового захисного комплекту (ЗЗК):



1. _____
2. _____
3. _____
4. _____
5. _____
6. _____

8. Вкажіть за якою командою виконується норматив «Одягання загальновійськового захисного комплекту і протигаза» (ЗЗК):

“Плащ в рукави. Гази”	“Захисний комплект одягнути. Гази”	“Гази” або “Респіратори одягнути”

9. Вкажіть способи надягання ЗЗК, що зображені на малюнках:



--	--	--

10. Вкажіть часові показники, які визначають оцінки при виконанні нормативів Н-РХБЗ-1, Н-РХБЗ-4а, 4б:

№	Найменування нормативу	“відмінно”	“добре”	“задовільно”
1	Одягання протигазу або респіратора			
4	Одягання загальновійськового захисного комплексу і протигазу:			
	- у вигляді плаща			
	- у вигляді комбінезону			

РОЗДІЛ 7. ТАКТИЧНА МЕДИЦИНА.

Тема. Види ушкоджень в бойових умовах. Засоби індивідуального медичного оснащення. Поняття домедичної допомоги.

Проведення медичного огляду пораненого в бойових (секторі укриття та евакуації) та небойових умовах.

I. ВИВЧИТИ:

1. Види ушкоджень в бойових умовах.
2. Засоби індивідуального медичного оснащення.
3. Поняття домедичної допомоги.
4. Проведення медичного огляду пораненого в бойових (секторі укриття та евакуації) та небойових умовах.

Література:

1. Стандарт підготовки І-СТ-3 (видання 2): підготовка військовослужбовця з тактичної медицини. К.: «МП Леся», 2015. 148 с. (С. 38-54).
2. Підручник тактичної бойової допомоги потерпілим Версія 5. 127 с. (С. 10-12). URL:<https://www.army.mil/>



II. ВИКОНАТИ:

1. Вкажіть на які три основні категорії поділяються поранені на полі бою:

1. _____

2. _____

3. _____

2. Вкажіть склад аптечки медичної загальновійськової індивідуальної (АМЗІ, згідно наказу НГШ від 07.01.2017 № 7):



1. _____
2. _____
3. _____
4. _____
5. _____
6. _____
7. _____
8. _____
9. _____
10. _____
11. _____
12. _____
13. _____

3. Підпишіть назви кровоспинних засобів:



--	--



--	--

4. Вкажіть, які контактні гемостатики-гемостопа на основі хітазану, на основі коаліну щодо зупинки кровотечі:



--	--	--

5. Вкажіть основні поняття надання домедичної допомоги при пошкодженнях, які виникають у сучасних збройних протистояннях на полі бою:

1. _____
2. _____
3. _____
4. _____
5. _____
6. _____
7. _____

6. Вкажіть обсяг домедичної допомоги:

в секторі обстрілу: _____

в секторі укриття: _____

7. Вкажіть алгоритм з надання домедичної допомоги в секторі обстрілу (взаємодопомога):

1. _____
2. _____
3. _____
4. _____
5. _____
6. _____
7. _____
8. _____
9. _____
10. _____
11. _____
12. _____
13. _____

8. Вкажіть алгоритм з надання домедичної допомоги в секторі обстрілу (самопомога):

1. _____
2. _____
3. _____
4. _____
5. _____
6. _____

9. Вкажіть алгоритм з надання домедичної допомоги в секторі укриття:

1. _____

2. _____

3. _____

4. _____

5. _____

6. _____

7. _____

8. _____

9. _____

10. _____

11. _____

12. _____

13. _____

14. _____

10. Підпишіть види ран відповідно до запропонованого переліку:

- 1. Різана
- 2. Забита
- 3. Рвана
- 4. Вогнепальна



--	--	--	--

11. Вкажіть послідовність кроків проведення первинного медичного огляду пораненого в бойових умовах:

M _____

A _____

R _____

C _____

H _____

Тема. Зупинка кровотечі та захист рани в бойових (секторі обстрілу, укриття та евакуації) та небойових умовах.

I. ВИВЧИТИ:

1. Зупинка кровотечі в бойових та небойових умовах.
2. Захист рани в бойових та небойових умовах.

Література:

1. Стандарт підготовки І-СТ-3 (видання 2): підготовка військовослужбовця з тактичної медицини. К.: «МП Леся», 2015. 148 с. (С 55-67).



II. ВИКОНАТИ:

1. Впишіть у схему види кровотеч у бойових умовах:

<u>Кров</u> - червоний колір, витікає пульсуючим струменем	<u>Кров</u> - темного кольору, витікає безупинно	<u>Змішана</u> - при розриві артерій і вен	<u>Кров</u> - витікає з усієї поверхні рани	<u>Кров</u> - при ушкодженні внутрішніх органів, витікає швидко великою кількістю

2. Дайте визначення поняттям:

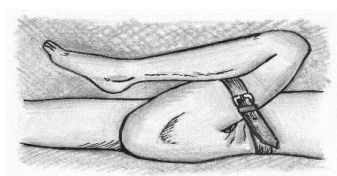
Внутрішня кровотеча - _____

Зовнішня кровотеча - _____

3. Вкажіть методи тимчасової зупинки кровотечі, що зображені на малюнках:



--	--



--	--

4. Підпишіть проєкцію головних артерій, що позначені на малюнку:

1. _____
2. _____
3. _____
4. _____
5. _____
6. _____
7. _____
8. _____
9. _____



5. Вкажіть під кожним малюнком покрокові дії при застосуванні турнікету типу CAT:



--



--



--



--



--



--

6. Вкажіть помилки при накладанні турнікету типу САТ:

1. _____
2. _____
3. _____
4. _____
5. _____
6. _____
7. _____

7. Позначте правильні ознаки того, що турнікет накладено вірно:

кровотеча стає повільною		кровотеча з рани припиняється	
кінцівка стає блідою та холодною		на кінцівці з'являється почервоніння	
пульс нижче накладання джгута не визначається		пульс вище накладання джгута не визначається	

Тема. Надання домедичної допомоги при гострих порушеннях дихання в бойових та небойових умовах.

I. ВИВЧИТИ:

1. Надання домедичної допомоги при гострих порушеннях дихання в бойових та небойових умовах.

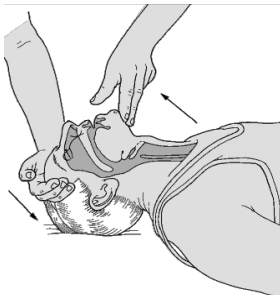
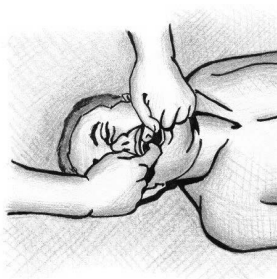
Література:

1. Стандарт підготовки І-СТ-3 (видання 2): підготовка військовослужбовця з тактичної медицини. К.: «МП Леся», 2015. 148 с. (С 68-78).



II. ВИКОНАТИ:

1. Вкажіть методи для звільнення прохідності дихальних шляхів, що зазначені на малюнку в бойових і небойових умовах під кожним малюнком:



--	--	--

2. Вкажіть сучасні засоби забезпечення прохідності дихальних шляхів в бойових і небойових умовах під кожним малюнком:



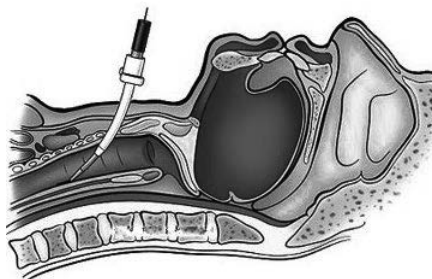
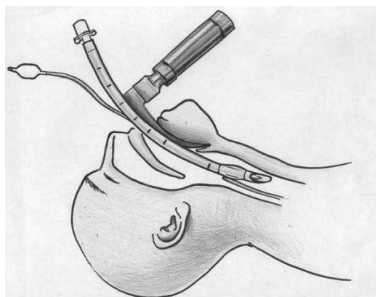
--

--



--

--



--

--

3. Вкажіть, який метод для прохідності дихальних шляхів слід провести в зазначеному випадку:



4. Вкажіть ознаки травми грудної клітини та алгоритм домедичної допомоги:



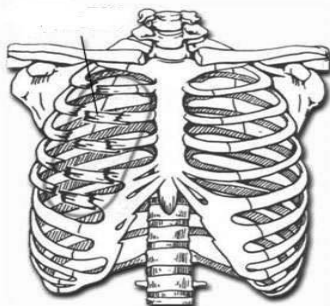
Ознаки	Алгоритм домедичної допомоги

5. Вкажіть ознаки травми грудної клітини та алгоритм домедичної допомоги:



ознаки	техніка	місце проведення

6. Вкажіть ознаки травми грудної клітини та алгоритм домедичної допомоги:



Ознаки	Алгоритм домедичної допомоги

8. Пронумеруйте зображення переведення пораненого у стабільне положення по крокам у правильній послідовності:



Тема. Надання домедичної допомоги при переломах, вивихах, розтягах в бойових (секторі укриття та евакуації) та небойових умовах. Пошкодження м'яких тканин кінцівок. Профілактика ранової інфекції.

I. ВИВЧИТИ:

1. Надання домедичної допомоги при переломах, вивихах, розтягах в бойових (секторі укриття та евакуації) та небойових умовах.
2. Пошкодження м'яких тканин кінцівок. Профілактика ранової інфекції.

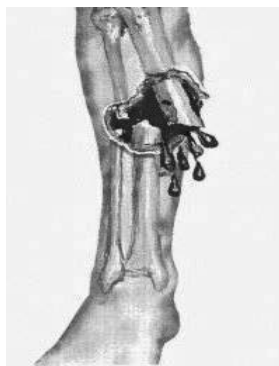
Література:

1. Стандарт підготовки І-СТ-3 (видання 2): підготовка військовослужбовця з тактичної медицини. К.: «МП Леся», 2015. 148 с. (С 80-98).



II. ВИКОНАТИ:

1. Вкажіть види переломів:



--	--	--

2. Вкажіть види пов'язок, що зазначені на малюнках:



--	--

--	--



--	--

--	--

3. Вкажіть алгоритм надання домедичної допомоги при пораненнях щелепно-лищевої ділянки:



Ознаки	Алгоритм дій

4. Опишіть послідовність дій укладання потерпілого з травмою хребта на ноші:



--

--



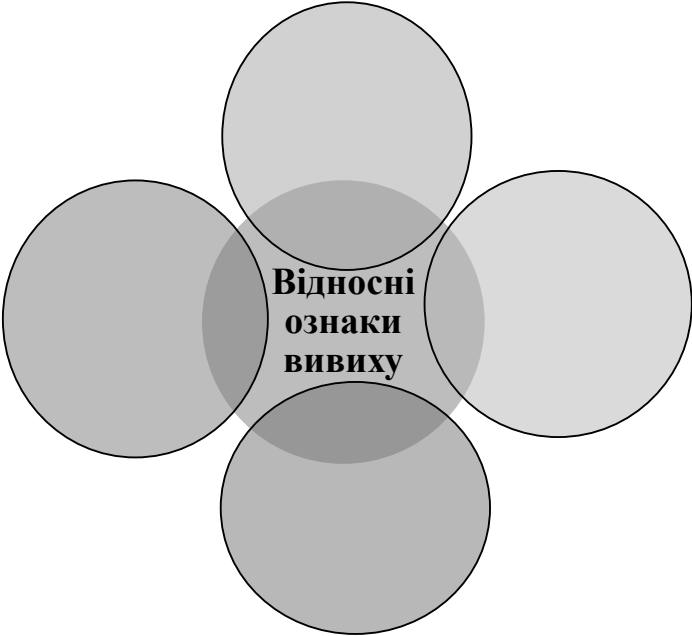
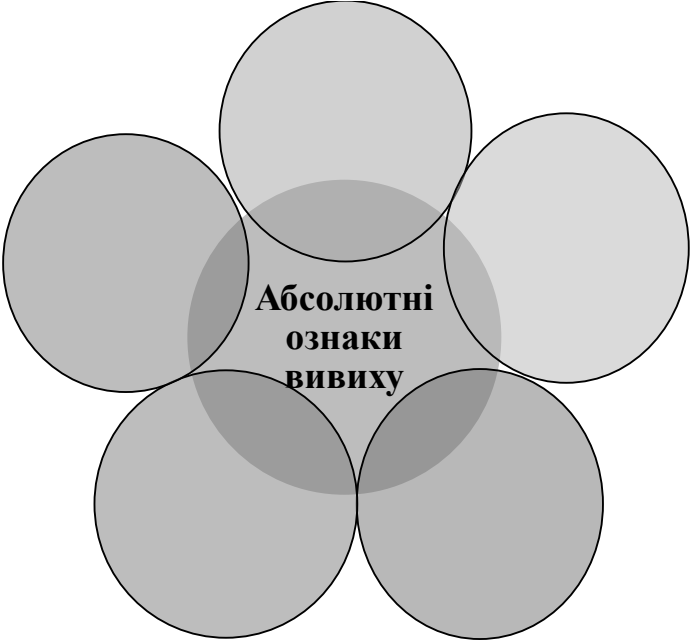
--

--

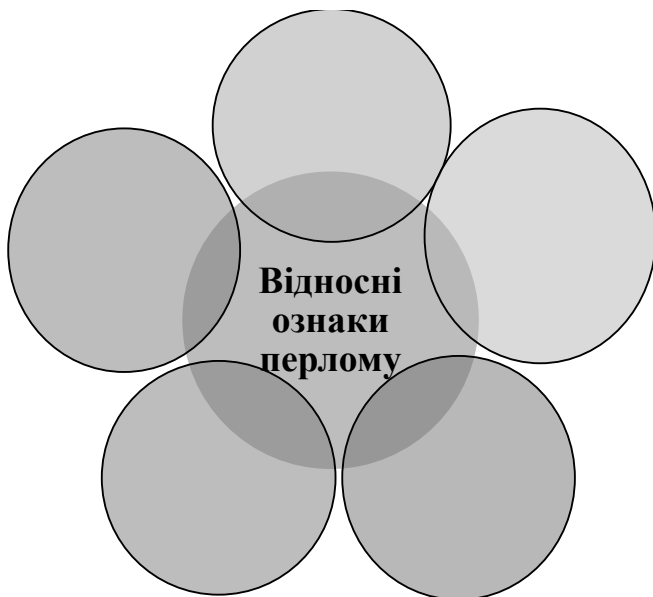
5. Вкажіть об'єм крововтрати при перерахованих переломах:

переломи ребра	
переломи передпліччя	
переломи плечової кістки	
переломи гомілки	
переломи стегна	

6. Заповніть схеми абсолютних та відносних ознак вивиху:



7. Заповніть схеми абсолютних та відносних ознак перелому:



8. Опишіть алгоритм надання домедичної допомоги при позиційному стисканні м'яких тканин (сектор укриття, сектор евакуації):

9. Опишіть послідовність ваших дій щодо надання домедичної допомоги при синдромі тривалого стиснення:

1. _____

2. _____

3. _____

10. Вкажіть, які ознаки компресійно-роздавленої травми (КРТ) Ви можете спостерігати у пораненого (*синдромоподібні стани*)?

СТР – _____

СТС – _____

ПС – _____

ТС – _____

СТУ – _____

КС – _____

Тема. Відтягнення та переміщення пораненого в укриття та його евакуація в бойових (секторі обстрілу, укриття та евакуації) та небойових умовах.

I. ВИВЧИТИ:

1. Відтягнення та переміщення пораненого в укриття та його евакуація в бойових (секторі обстрілу, укриття та евакуації) та небойових умовах.

Література:

1. Стандарт підготовки І-СТ-3 (видання 2): підготовка військовослужбовця з тактичної медицини. К.: «МП Леся», 2015. 148 с. (С 99-111).



II. ВИКОНАТИ:

1. Вкажіть, які способи можна використовувати під час переміщення пораненого:

- 1. _____
- 2. _____
- 3. _____
- 4. _____

2. Вкажіть способи індивідуального пересування, що зображені на малюнках:



--	--



--

--

3. Вкажіть способи винесення пораненого в укриття в бойових умовах, що зображені на малюнках:



--

--




--

--



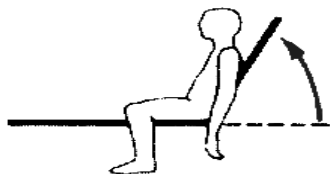
4. Вкажіть діагноз потерпілих при транспортуванні, що зображені на малюнках:



Піднятий головний кінець при: _____



Положення на травмованому боці при:



Сидяче положення з опущеними вниз но-
гами при:



Піднятий головний кінець на 30° при:



Піднятий ніжний кінець, опущений
головний кінець при:



Положення з піднятими ногами при:



Піднятий нижній кінець при стабільному боковому положенні:



Положення з опущеною враженою кінцівкою при:



Положення з піднятою хворою кінцівкою при:



Положення на спині з приведеними колінами при:



Положення тіла на вакуумний матрац, або щит для транспортування при:

Тема. Надання домедичної допомоги при ураженні зброєю масового ураження.

I. ВИВЧИТИ:

1. Надання домедичної допомоги при ураженні зброєю масового ураження.

Література:

1. Стандарт підготовки І-СТ-3 (видання 2): підготовка військовослужбовця з тактичної медицини. К.: «МП Леся», 2015. 148 с. (С. 112-118).



II. ВИКОНАТИ:

1. Вкажіть види бойових отруйних речовин (БОР):

1. _____
2. _____
3. _____
4. _____
5. _____
6. _____

2. Вкажіть види бойових отруйних речовин за швидкістю дії:

1. _____
2. _____
3. _____

3. Вкажіть ознаки ураження бойовими отруйними речовинами:

нервово-паралітичної дії - _____

загальноотруйної дії - _____

шкірно-резорбтивної дії - _____

задушливої дії - _____

психотоміметичної дії - _____

подразливої дії - _____

невідомим газом - _____

3. Вкажіть, що включає домедична допомога при ураженні бойовими отруйними речовинами:

нервово-паралітичної дії - _____

загальноотруйної дії - _____

шкірно-резорбтивної дії - _____

задушливої дії - _____

психотоміметичної дії - _____

подрозливної дії - _____

невідомим газом - _____

Тема. Надання домедичної допомоги при опіках, відмороженнях та замерзанні.

I. ВИВЧИТИ:

1. Надання домедичної допомоги при опіках.
2. Надання домедичної допомоги при відмороженнях та замерзанні.

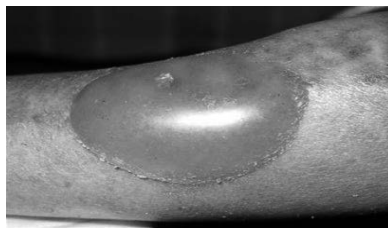
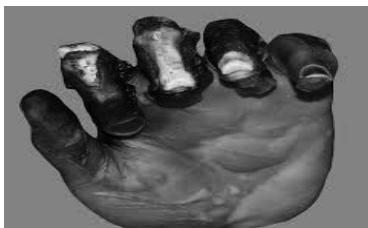
Література:

1. Стандарт підготовки І-СТ-3 (видання 2): підготовка військовослужбовця з тактичної медицини. К.: «МП Леся», 2015. 148 с. (С. 120-129).

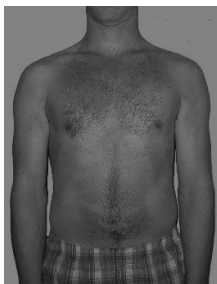


II. ВИКОНАТИ:

1. Вкажіть ступені опіків, що зображені на малюнках:



--	--

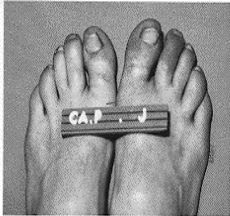


--

2. Вкажіть ступені відмороження, що зображені на малюнках:

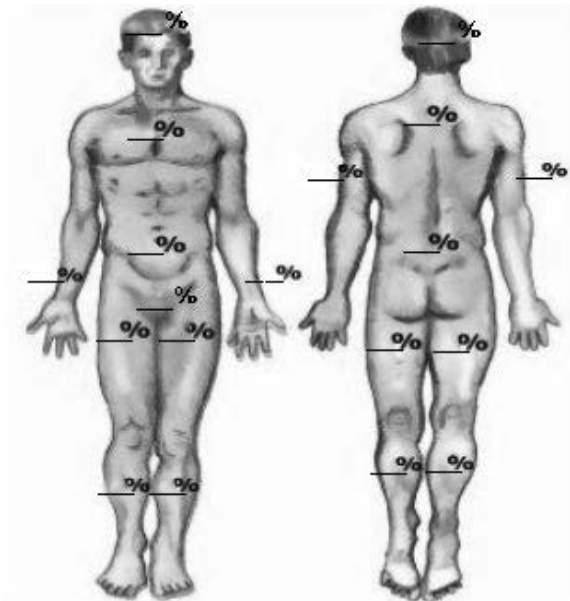


--	--



--	--

3. Використовуючи “правило дев’ятки” визначте опікову площу та напишіть у %:



4. Вкажіть назви стадії гіпертермії за наведеними ознаками в бойових і небойових умовах:

1. _____
болісні скорочення м'язів (найчастіше в області гомілок або м'язів передньої черевної стінки)

2. _____
нормальна або підвищена температура тіла, прохолодна, волога, бліда або почервоніла шкіра, головний біль, нудота, запаморочення або слабкість.

3. _____
висока температура тіла, іноді досягає 41 °С, червона, гаряча суха шкіра, роздратованість, втрата свідомості, прискорене поверхнєве дихання.

6. Вкажіть стадії важкості загального охолодження або замерзання використовуючи ознаки, що наведені в таблиці:

Ознака			
Ураження (за ступенем важкості)	Легка	Середня	Важка
t ⁰ тіла	↓+33-35° С	↓+32-30° С	↓ +30° С
Свідомість	Є (адинамія, втома, сонливість, озноб).	Є, але пригнічена (сопор), озноб.	Відсутня.
Шкірні покриви	Бліді, ціаноз з мармуровим відтінком, «гусяча шкіра», акроціаноз, біль у кінцевих фалангах пальців.	Синюшні або мармурові, акроціаноз.	Бліді, інколи ціанотичні, холодні на дотик.
Мова	Затруднена, скандована.	—	—
ЧСС	↓60 уд/хв, але можлива тахікардія.	Брадикардія 29-52 уд/хв.	Ниткоподібний 40-50 уд/хв (тільки на магістральних судинах).
АТ	↑ 150/100-170/120 мм.рт.ст.	↑, або незначно ↓	(не визначається).
ЧД	Без змін	8-10/хв	Поверхнєве, преривчасте, типу Чейна-Стокса, інколи хрипле.

РОЗДІЛ 8. ВОГНЕВА ПІДГОТОВКА.

Тема. Матеріальна частина стрілецької зброї, ручних осколкових гранат.

I. ВИВЧИТИ:

1. Матеріальна частина стрілецької зброї, ручних осколкових гранат.
2. Заходи безпеки при поводженні зі зброєю, боєприпасами та з ручними осколочними гранатами.

Література:


1. Керівництво зі стрілецької справи 5,45-мм автомати Калашнікова. ВКДП 7-00(01).01, К.: УБП КСВ ЗСУ, 2019. 140 с. (С. 8-11, 25-43).
2. Настанова зі стрілецької справи 9 - мм пістолет Макарова (ПМ), К.: УБП КСВ ЗСУ, 2004. 64 с. (С. 3-5, 21-32).
3. Вогнева підготовка, ДМ до СТІ 000Г.09.Л, К.: ЦОСiМП ЗСУ, 2019. 52 с. (С. 5-26).
4. Заходи безпеки у Збройних Силах України: навчальний посібник / О. Водчиць, І. Скворок, Г. Чугуй та ін., К.: НАУ, 2021, 267 с. (С.126-129).

II. ВИКОНАТИ:

1. Вкажіть складові комплекту та приладдя до автомата Калашнікова АК-74:



2. Вкажіть основні частини автомата Калашнікова АК-74:



- 1. _____
- 2. _____
- 3. _____
- 4. _____
- 5. _____
- 6. _____
- 7. _____
- 8. _____
- 9. _____
- 10. _____
- 11. _____

3. Вкажіть основні частини та механізми пістолета Макарова ПМ:



1. _____

2. _____

3. _____

4. _____

5. _____

6. _____

7. _____

4. Вкажіть, що належить до приладдя пістолета ПМ:



- 1. _____
- 2. _____
- 3. _____
- 4. _____

5. Вкажіть основні модифікації набоїв 5,45х39 мм до автомату Калашникова:



--	--	--	--

6. Вкажіть основні модифікації набоїв 9×18 мм до пістолету ПМ:



--	--	--	--

7. Вкажіть назви ручних осколкових гранат, що є на озброєнні в ЗС України:



--	--



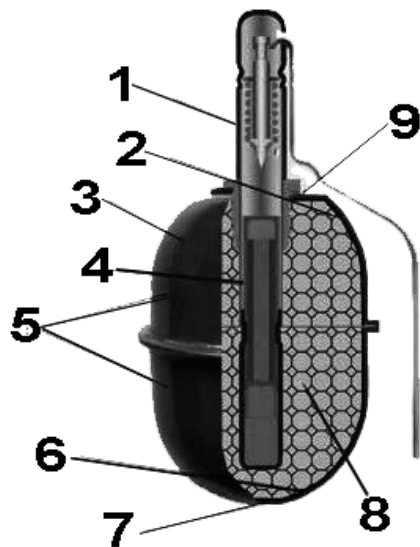
--	--

8. Вкажіть основні бойові характеристики осколочних гранат:

Найменування (марка) зразка	Радіус розльоту осколків (м)	Маса спорядженої гранати (гр)	Час горіння запальника (с)	Дальність середня кидка (м)
Ф-1				
РГД - 5				
РГО				
РГН				


9. Вкажіть будову ручної осколкової гранати РГД-5:

1. _____
2. _____
3. _____
4. _____
5. _____



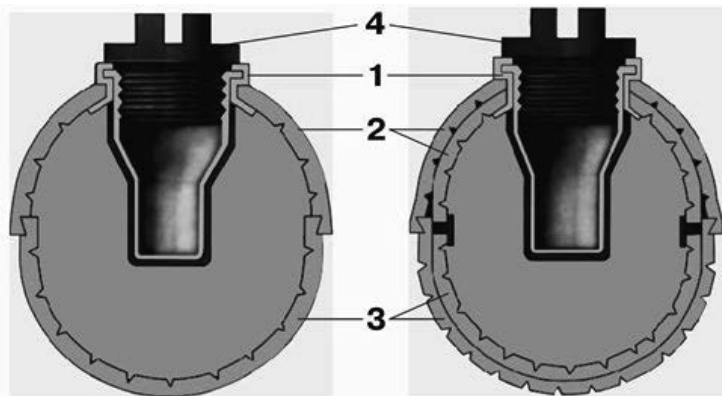
6. _____
7. _____
8. _____
9. _____

10. Вкажіть будову ручної осколкової гранати Ф-1:



- 1. _____
- _____
- 2. _____
- _____
- 3. _____
- _____

11. Вкажіть будову ручних осколкових гранат РГО, РГН:



- 1. _____
- 2. _____
- 3. _____
- 4. _____

12. Вкажіть коли забороняється вести вогонь:

1. _____

2. _____

3. _____

4. _____

13. Вкажіть коли негайно припиняється ведення вогню:

1. _____

2. _____

3. _____

4. _____

5. _____

6. _____

14. Вкажіть, що забороняється під час метання бойових гранат:

1. _____

2. _____

3. _____

4. _____

Тема. Основи та правила стрільби.

I. ВИВЧИТИ:

1. Рішення вогневих задач по цілях що з'являються та рухаються.
2. Основні положення Курсу стрільб по виконанню вправ стрільб зі стрілецької зброї.

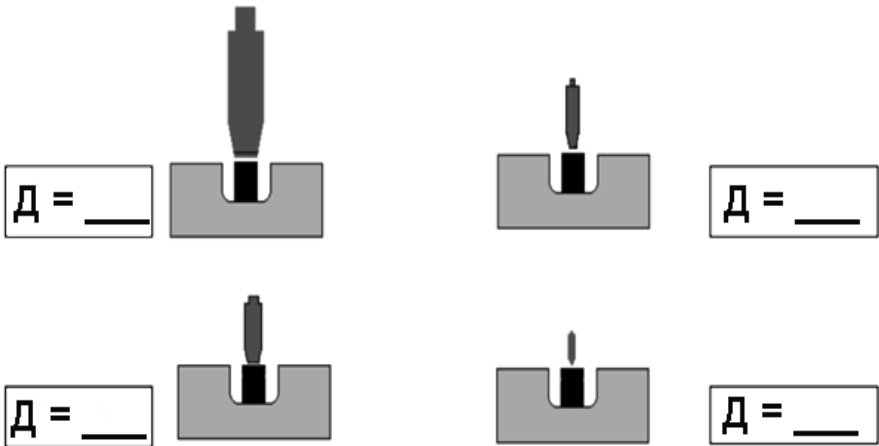
Література:

1. Вогнева підготовка: навчальний посібник / М.М. Ляпа, В.М. Петренко, О.І. Судніков, та ін., С.: СДУ, 2011. 285 с. (С. 130-138).
2. Вогнева підготовка: довідковий матеріал, ДМ до СТІ 000Г.09Л, К.: ЦОСіМП ЗС України, 2019. 52 с. (С. 31-39).
3. Курс стрільб зі стрілецької зброї і бойових машин. КРП 03.032.056-2018. К.: КСВ ЗСУ. 2018. 293 с. (С. 19-53)



II. ВИКОНАТИ:

1. Визначте дальність за допомогою прицільних пристосувань автомата та впишіть ($D = \underline{\hspace{1cm}}$ м.):



2. Впишіть в таблицю поправки на боковий помірний вітер (4м/с) під кутом 90° до напрямку стрільби з автомата АК-74:


Відстань стрільби (м)	В метрах	в фігурах людини
100		
200		
300		
400		
500		
600		

3. Визначте середню точку влучення та нанесіть її на малюнок:

а) по чотирьом пробоїнам



б) по трьом пробоїнам



4. Вкажіть коли стрільба оцінюється “незадовільно” незалежно від кількості уражених цілей:

1. _____

2. _____

3. _____

5. Вкажіть, як визначається індивідуальна оцінка вогневої підготовки:

“Відмінно” - _____

“Добре” - _____

“Задовільно” - _____

6. Вкажіть умови виконання вправи початкових стрільб КС 1.01(02 – 04).1.1 “Стільба з місця по нерухомим цілям”:

1. Час на стрільбу: _____

2. Кількість боєприпасів: _____

3. Положення для стрільби: _____

6. Вкажіть умови виконання вправи навчальних стрільб КС 2.01(03 – 04).1.1 “Стільба з місця по цілях, що з’являються”:

1. Час на стрільбу: _____

2. Кількість боєприпасів: _____

3. Положення для стрільби: _____

6. Вкажіть дальність до цілей у вправі навчальних стрільб КС 2.01(03 – 04).1.1 “Стільба з місця по цілях, що з’являються”:

Вид зброї	Цілі		
	Вогнева група	Стрілець, що перебігає	Стрілець, що заліг
Автомат			
Ручний кулемет			
Кулемет			

Тема. Дії при зброї.

I. ВИВЧИТИ:

1. Приготування до стрільби з автомата АК74 лежачи, з коліна та із-за укриття.
2. Вивчення порядку визначення дальності до цілей та подання цілевказань.

Література:

1. Вогнева підготовка: навчальний посібник / М.М. Ляпа, В.М. Петренко, О.І. Судніков, та ін., С.: СДУ, 2011. 285 с. (С. 95-160).
2. Вогнева підготовка: довідковий матеріал, ДМ до СТІ 000Г.09Л, К.: ЦОСіМП ЗС України, 2019. 52 с. (С. 31-39).



II. ВИКОНАТИ:

1. Вкажіть основні прийоми стрільби з автомата АК-74:



2. Вкажіть прийоми стрільби з автомата АК-74 з за укриття:





3. Заповніть таблицю поправок на боковий помірний вітер (швидкість 4 м/с) в метрах, фігурах людини:

Відстань стрільби, (м)	Поправки на боковий помірний вітер (4м/с) під кутом 900 до напрямку стрільби з автомата			
	5,45 мм АК-74 (АКС-74)		7,62 мм АКМ (АКМС)	
	в метрах	в фігурах людини	в метрах	в фігурах людини
100				
200				
300				
400				
500				
600				

Навчально-методичне видання

Кафедра медицини катастроф та військової медицини
ВІННИЦЬКИЙ НАЦІОНАЛЬНИЙ МЕДИЧНИЙ УНІВЕРСИТЕТ
ім. М.І. Пирогова

ПРАКТИКУМ
з дисципліни «Первинна військово-професійна підготовка»

Матвійчук М. В.
Подолян В. М.
Івашкевич Є. М.
Чорна В. В.
Губар А. М.
Івашкевич М. С.

Підписано до друку 06.11.2023.
Формат 60x84/16. Папір офсетний.
Друк цифровий.
Друк. арк. 7,25. Умов. друк. арк. 6,74.
Наклад 155 прим. Зам. № 6985/1.

Віддруковано ФОП Корзун Д.Ю. з оригіналів замовника.
Свідоцтво про державну реєстрацію фізичної особи-підприємця
серія В02 № 818191 від 31.07.2002 р.

Видавець ТОВ «ТВОРИ».
Свідоцтво про внесення суб'єкта видавничої справи
до Державного реєстру видавців, виготовлювачів і розповсюджувачів
видавничої продукції серія ДК № 6188 від 18.05.2018 р.
21034, м. Вінниця, вул. Немирівське шосе, 62а.
Тел.: 0 (800) 33-00-90, (096) 97-30-934, (093) 89-13-852, (098) 46-98-043.
e-mail: info@tvoru.com.ua
<http://www.tvoru.com.ua>